
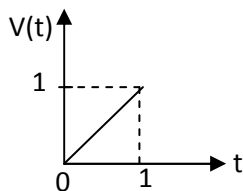


Solusi Latihan II MATEMATIKA FISIKA III

1. Sebuah hambatan R dihubungkan seri dengan Induktor L membentuk suatu rangkaian RL seperti pada gambar berikut:



Jika pada rangkaian RL tersebut diberikan tegangan $V(t)$ dengan fungsi



Tentukan arus listrik $I(t)$ yang mengalir pada rangkaian RL tersebut!

JAWAB:

Dari hukum Kirchhoff diperoleh :

$$IR + L \frac{dI}{dt} = V(t)$$

$$\frac{dI}{dt} + IR/L = t/L$$

dengan menggunakan transformasi Laplace diperoleh

$$\mathcal{L}(dI/dt) + R/L \mathcal{L}(I) = \mathcal{L}(t/L)$$

$$P\mathcal{L}(I) + R/L \mathcal{L}(I) = \mathcal{L}(t/L)$$

$$\text{Maka } \mathcal{L}(I) = \mathcal{L}(t/L)/(P+R/L)$$

$$= \mathcal{L}(t/L) \cdot \mathcal{L}(\exp(-Rt/L))$$

Skor 10

Dengan menggunakan teknik konvolusi diperoleh:

$$I(t) = 1/L \int_0^t \tau e^{-\frac{R}{L}(t-\tau)} d\tau$$

$$I(t) = 1/R (t + L/R - L/R \exp(-Rt/L))$$

Skor 10

2. Tentukan solusi dari persamaan diferensial berikut:

a. $\frac{d^4 y}{dt^4} - y = \delta(t - a)$

b. $y'' + 3y' - 4y = e^{3t}$

jika kondisi awal $y(0) = 0$

JAWAB:

A. $\frac{d^4 y}{dt^4} - y = \delta(t - a)$

Dengan menggunakan transformasi Laplace maka diperoleh :

$$P^4 Y - P^3 y_0 - P^2 y_0' - P y_0'' - Y = \exp(-pt_0)$$

$$y_0 = y_0' = y_0'' = 0$$

$$(P^4 - 1)Y = \exp(-pt_0) \quad \text{skor 10}$$

$$Y = \exp(-pt_0) \cdot (-\frac{1}{2}(p^2 + 1) + \frac{1}{2}(p^2 - 1))$$

$$y(t) = \frac{1}{2} (\sinh(t-t_0) - \sin(t-t_0)) \quad \text{skor 10}$$

B. $y'' + 3y' - 4y = e^{3t}$

Dengan menggunakan transformasi Laplace maka diperoleh :

$$P^2 Y + 3PY - 4Y = 1/(p-3)$$

$$Y = 1/(p-3)(p^2 + 3p - 4) \quad \text{skor 10}$$

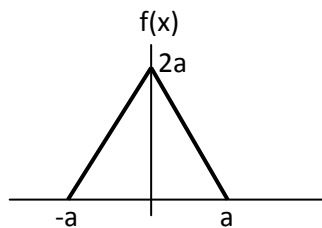
Dengan teknik konvolusi maka diperoleh :

$$Y = L(\exp(3t))L(1/5(\exp(t) - \exp(-4t)))$$

$$y(t) = (1/5) \int_0^t e^{3(t-\tau)} (e^\tau - e^{-4\tau}) d\tau$$

$$y(t) = \frac{1}{14} e^{3t} + \frac{1}{95} e^{-4t} - \frac{1}{10} e^t \quad \text{skor 10}$$

3. Jika diketahui bahwa fungsi f(x) memenuhi



Tentukan solusi dari integral $\int_0^\infty \frac{1 - \cos \frac{1}{2}\alpha}{\alpha^2} d\alpha$

JAWAB:

Menggunakan transformasi Fourier

$$g(\alpha) = \sqrt{\frac{2}{\pi}} \int_0^a f(x) \cos(\alpha x) dx \quad \text{skor 10}$$

$$g(\alpha) = \sqrt{\frac{2}{\pi}} \int_0^a (-2x + 2a) \cos(\alpha x) dx$$

$$g(\alpha) = \sqrt{\frac{2}{\pi}} (-2a/\alpha \sin \alpha - 2/\alpha^2 \cos \alpha + 2/\alpha^2 + 2a/\alpha \sin \alpha)$$

$$f(x) = \sqrt{\frac{2}{\pi}} \int_0^\infty g(\alpha) \cos(\alpha x) d\alpha$$

$$f(x) = \frac{4}{\pi} \int_0^\infty \frac{1 - \cos \alpha a}{\alpha^2} \cos(\alpha x) d\alpha$$

$$\frac{\pi}{4} f(x) = \int_0^\infty \frac{1 - \cos \alpha a}{\alpha^2} \cos(\alpha x) d\alpha$$

Untuk $a=1/2$, $x=0$ maka $f(x)=1$

$$\int_0^\infty \frac{1 - \cos \alpha / 2}{\alpha^2} d\alpha = \pi/4$$

skor 10

4. Apabila diketahui $f(x) = 1$ untuk rentang $-2 < x < 0$ dan $f(x) = -1$ untuk rentang $0 < x < 2$, tentukanlah solusi dari

$$\int_0^\infty \frac{(\cos 2\alpha - 1) \sin 2\alpha}{\alpha} d\alpha$$

JAWAB:

Fungsi $f(x)$ pada soal 4 merupakan fungsi ganjil sehingga dapat menggunakan transformasi fourier fungsi ganjil :

$$g(\alpha) = \sqrt{\frac{2}{\pi}} \int_0^2 -\sin(\alpha x) dx$$

$$= \sqrt{\frac{2}{\pi}} \frac{\cos(2\alpha) - 1}{\alpha}$$

skor 10

$$f(x) = \sqrt{\frac{2}{\pi}} \int_0^\infty g(\alpha) \sin(\alpha x) d\alpha$$

$$= \sqrt{\frac{2}{\pi}} \int_0^\infty \sqrt{\frac{2}{\pi}} \frac{\cos(2\alpha) - 1}{\alpha} \sin(\alpha x) d\alpha$$

$$= \frac{2}{\pi} \int_0^\infty \frac{\cos(2\alpha) - 1}{\alpha} \sin(\alpha x) d\alpha$$

$$\int_0^\infty \frac{\cos(2\alpha) - 1}{\alpha} \sin(\alpha x) d\alpha = \frac{\pi}{2} f(x)$$

Untuk $x=2$ $f(x) = -1/2$

Sehingga akan diperoleh : $\int_0^\infty \frac{\cos(2\alpha) - 1}{\alpha} \sin(2\alpha) d\alpha = -\frac{\pi}{4}$ skor 10