

DISTRIBUSI PELUANG



readOnee@yahoo.com

Distribusi ?

Peluang ?

Distribusi Peluang ?

- **Distribusi** = sebaran, pencaran, susunan data
- **Peluang** : Ukuran/derajat ketidakpastian suatu peristiwa
- **Distribusi Peluang** adalah deskripsi/gambaran peluang terjadinya setiap nilai dalam satu populasi dari percobaan

VARIABEL ACAK

Suatu fungsi yang nilainya berupa bilangan nyata yang ditentukan oleh setiap unsur dalam ruang sampel

Variabel acak ada 2, yaitu :

1. Variabel Random Diskrit/ Cacah digunakan untuk data cacahan
2. Variabel Random Kontinu digunakan untuk data ukur

Contoh :

Pada percobaan pelemparan mata uang. Misal banyaknya muncul gambar dinyatakan x , maka x = variabel acak

Ruang Sampel

- **Diskrit :**
Ruang sampel yang mengandung titik sampel sebanyak bilangan cacah
- **Kontinu :**
Ruang sampel mengandung titik sampel sebanyak titik pada sebuah garis

Contoh:

Melemparkan satu mata uang logam yang dilakukan tiga kali

- Ruang sampel (*sample space*) ?
- Bila yang diinginkan adalah yang muncul muka (depan), berapa titik sampel ?
- Apa yang termasuk variabel independen (peubah acak)?
- Berapa probabilitas bila yang terjadi adalah 2 kali yang muncul muka uang?
- Tentukan distribusi probabilitasnya!

- $S = \{BBB, BBM, BMB, MBB, BMM, MBM, MMB, MMM\}$
- $\{BBB, (BBM, BMB, MBB), (BMM, MBM, MMB), MMM\} = 0, 1, 2, 3$
(empat titik sampel)
- Peubah acak (Variabel independen), banyak bagian muka uang yang muncul bila satu mata uang di lemparkan tiga kali adalah 0, 1, 2, 3
- $p = 3/8$

Distribusi probabilitas

Banyak sisi muka yang muncul (M) (x)	Frekuensi	Probabilitas
0	1	$1/8$
1	3	$3/8$
2	3	$3/8$
3	1	$1/8$
Jumlah	8	1

Latihan 1:
Bila dua dadu di lemparkan satu kali

Tentukan !

- Ruang sampel (*sample space*) ?
- Bila yang diinginkan adalah mata dadu yang muncul berjumlah 4 berapa titik sampel ?
- Apa yang termasuk variabel independen (peubah acak)?
- Berapa probabilitas bila yang terjadi adalah mata dadu berjumlah 9?
- Tentukan distribusi probabilitasnya!

Latihan 2:

Carilah rumus distribusi probabilitas untuk jumlah muka yang muncul bila satu mata uang dilemparkan empat kali!!!

Tipe Distribusi Probabilitas

- **Distribusi Diskrit**, Apabila variabel yang diukur hanya dapat menjalani nilai-nilai tertentu, seperti bilangan bulat 0, 1, 2, 3 ,,,, (outcome yang tertentu)
 - Distribusi Binomial
 - Distribusi Poisson
 - Distribusi Hipergeometrik
- **Distribusi kontinu**, apabila variabel yang diukur dinyatakan dalam skala kontinu, $0 \leq x \leq k$.
 - Distribusi Normal

DISTRIBUSI PELUANG DISKRIT

Sebuah tabel atau rumus yang mencantumkan semua kemungkinan nilai variabel acak diskrit dan nilai peluangnya

x	P(x)
0	$\frac{1}{4}$
1	$\frac{2}{4}$
2	$\frac{1}{4}$
Jumlah	1

Contoh :

- 1) Tentukan rumus distribusi peluang banyaknya sisi gambar bila sebuah uang logam dilempar 3 kali. Buatlah tabelnya ?

Eksperimen :

Pelemparan 1 mata uang 3x, Banyaknya titik sampel = $2^3 = 8$

$S = \{AAA, AAG, AGG, GGG, AGA, GAG, GAA, GGA\}$

Banyaknya muncul sisi gambar adalah

$$\binom{3}{x}$$

Jadi fungsi peluang adalah :

$$f_{(x)} = \frac{\binom{3}{x}}{8}$$

Untuk $x = 0, 1, 2, 3$

Tabel distribusi peluang :

Harga x	0	1	2	3
Prob $x = f(x)$	$\frac{1}{8}$	$\frac{3}{8}$	$\frac{3}{8}$	$\frac{1}{8}$

= 1

2) Sebuah dadu dilemparkan 2x

Misalkan : x = jumlah titik dadu dalam kedua lemparan itu, maka

$x = 2, 3, 4, 5, 6, 7, 8, 9, 10, 11, 12$

Tabel distribusi probabilitas x :

Harga x	2	3	4	5	6	7	8	9	10	11	12
Prob $x = f(x)$	$\frac{1}{36}$	$\frac{2}{36}$	$\frac{3}{36}$	$\frac{4}{36}$	$\frac{5}{36}$	$\frac{6}{36}$	$\frac{5}{36}$	$\frac{4}{36}$	$\frac{3}{36}$	$\frac{2}{36}$	$\frac{1}{36}$

$$\begin{aligned} \text{a) } P(x > 8) &= P(x=9) + P(x=10) + P(x=11) + P(x=12) \\ &= \frac{4}{36} + \frac{3}{36} + \frac{2}{36} + \frac{1}{36} = \frac{10}{36} \end{aligned}$$

$$\begin{aligned} \text{b) } P(4 < x < 7) &= P(x=5) + P(x=6) \\ &= \frac{4}{36} + \frac{5}{36} = \frac{9}{36} \end{aligned}$$

3) Eksperimen : 8 bit (1 byte) dibangkitkan secara acak.

Variabel random y = banyak bit 1 dalam byte

$$y = 0, 1, 2, 3, 4, 5, 6, 7, 8$$

$$y = 0 \rightarrow n = c(8,0) = 1$$

$$y = 1 \rightarrow n = c(8,1) = 8$$

$$y = 2 \rightarrow n = c(8,2) = 28$$

$$y = 3 \rightarrow n = c(8,3) = 56$$

$$y = 4 \rightarrow n = c(8,4) = 70$$

$$y = 5 \rightarrow n = c(8,5) = 56$$

$$y = 6 \rightarrow n = c(8,6) = 28$$

$$y = 7 \rightarrow n = c(8,7) = 8$$

$$y = 8 \rightarrow n = c(8,8) = 1$$

$$n(S) = \text{banyak cara membangkitkan 8 bit(0 \& 1)} \\ = 2^8 = 256$$

Tabel distribusi probabilitas x :

Harga y	0	1	2	3	4	5	6	7	8
Prob = f(y)	$\frac{1}{256}$	$\frac{8}{256}$	$\frac{28}{256}$	$\frac{56}{256}$	$\frac{70}{256}$	$\frac{56}{256}$	$\frac{28}{256}$	$\frac{8}{256}$	$\frac{1}{256}$

- 4) Sebuah toko menjual obral 15 radio, diantara radio tsb, terdapat 5 yang rusak. Jika seorang calon pembeli melakukan tes tiga radio yang dipilih secara random. Tuliskan distribusi probabilitas x = banyaknya radio yang rusak dalam sampel itu dan tabelnya

$$P(x = 0) = \frac{\binom{10}{3}}{\binom{15}{3}} = \frac{120}{455} = \frac{24}{91}$$

$$P(x = 1) = \frac{\binom{10}{2} \cdot \binom{5}{1}}{\binom{15}{3}} = \frac{225}{455} = \frac{45}{91}$$

$$P(x = 2) = \frac{\binom{10}{1} \cdot \binom{5}{2}}{\binom{15}{3}} = \frac{100}{455} = \frac{20}{91}$$

$$P(x = 3) = \frac{\binom{10}{0} \cdot \binom{5}{3}}{\binom{15}{3}} = \frac{10}{455} = \frac{2}{91}$$

Tabel distribusi probabilitasnya :

Harga x	$\frac{24}{91}$	$\frac{45}{91}$	$\frac{20}{91}$	$\frac{2}{91}$
Probabilitas x	0	1	2	3

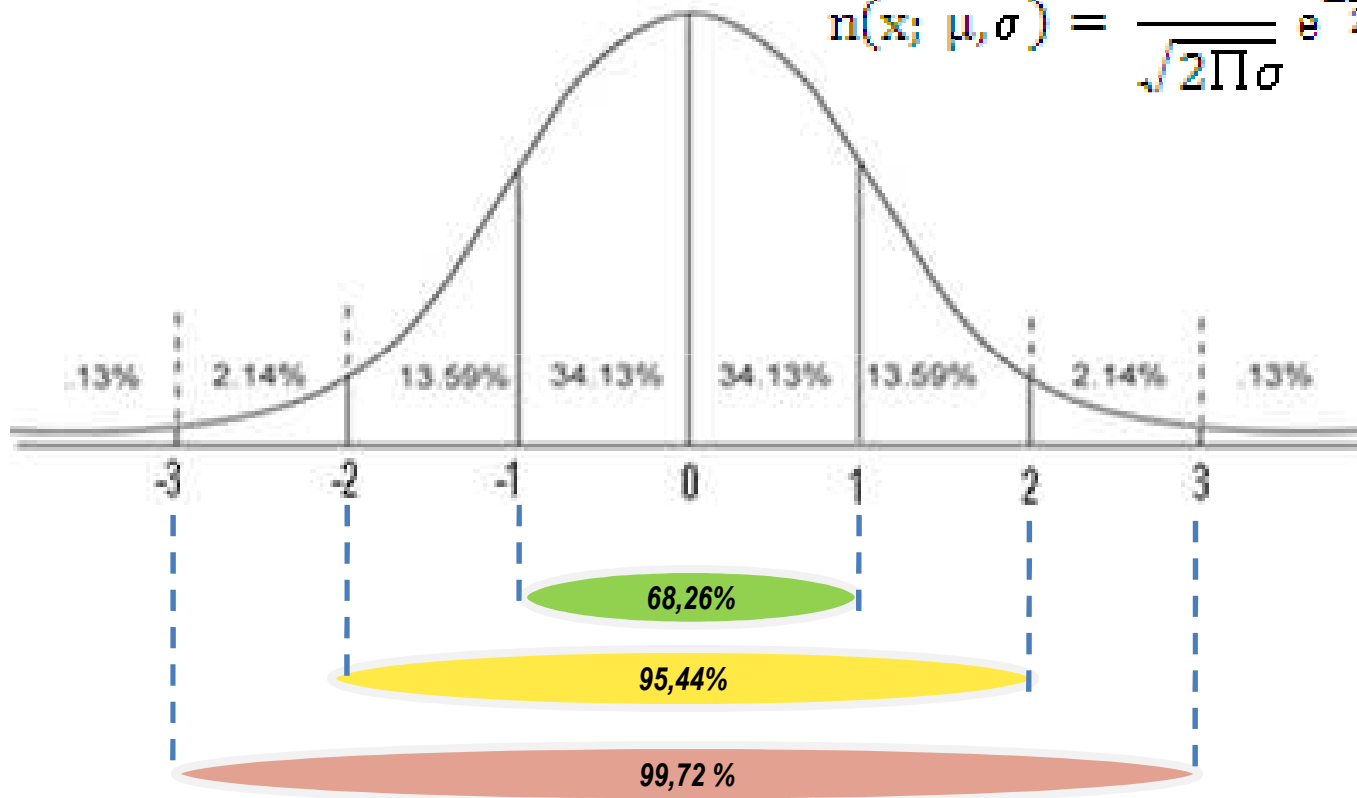
DISTRIBUSI PELUANG KONTINU

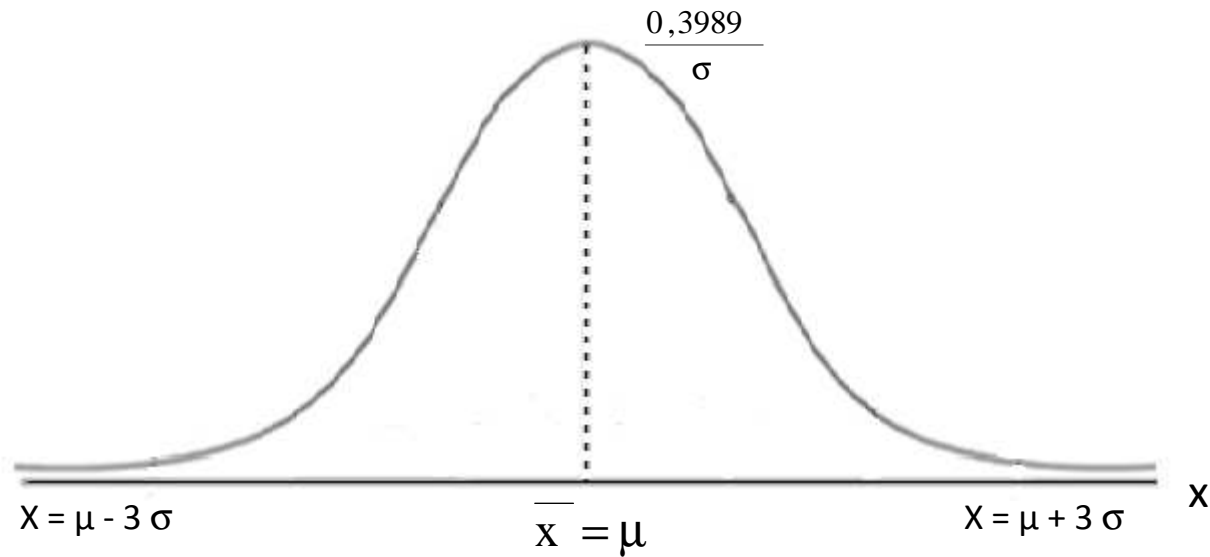
- Distribusi peluang untuk variabel acak kontinu tidak dapat disajikan dalam bentuk tabel, tetapi dinyatakan dalam sebuah fungsi yang disebut *fungsi densitas*
- Fungsi tersebut dinyatakan sedemikian sehingga luas daerah di bawah kurva, diatas sumbu $x \approx 1$

$$\int_{-\infty}^{\infty} f(x) dx = 1$$

KURVA NORMAL

$$n(x; \mu, \sigma) = \frac{1}{\sqrt{2\pi}\sigma} e^{-\frac{1}{2}\left(\frac{x-\mu}{\sigma}\right)^2}$$





Ciri-ciri:

- ▶ Grafik selalu di atas sumbu datar x
- ▶ Bentuk simetri terhadap $\bar{x} = \mu$
- ▶ Mempunyai satu modus, terdapat pada $\bar{x} = \mu$ sebesar $\frac{0,3989}{\sigma}$
- ▶ Grafik mendekati sumbu datar x dimulai dari $x = \mu + 3\sigma$ kekanan dan $x = \mu - 3\sigma$ ke kiri

$$f(x) = \frac{1}{\sqrt{2\Pi\sigma}} e^{-\frac{1}{2}\left(\frac{x-\mu}{\sigma}\right)^2}$$

Angka baku $z = \frac{x_i - \bar{x}}{s}$ atau $z = \frac{x_i - \mu}{\sigma}$ maka $f(z) = \frac{1}{\sqrt{2\Pi\sigma}} e^{-\frac{1}{2}(z)^2}$

Jika $\sigma = 1$ maka $f(z) = \frac{1}{\sqrt{2\Pi}} e^{-\frac{1}{2}z^2}$

Substitusikan harga $\Pi = 3,14159$

$$f(z) = \frac{1}{\sqrt{2(3,14159)}} e^{-\frac{1}{2}z^2} = f(z) = \frac{1}{\sqrt{6,28318}} e^{-\frac{1}{2}z^2} = f(z) = \frac{1}{2,507} e^{-\frac{1}{2}z^2} = f(z) = 0,3998 e^{-\frac{1}{2}z^2}$$

Substitusikan harga $e = 2,71828$ $f(z) = 0,3998 \{ (2,71828)^{-\frac{1}{2}z^2} \}$

Untuk $z = 0$ $f(z) = 0,3998$

$F(0) = 0,3998$

Untuk $z = 1$ $f(z) = 0,2425$

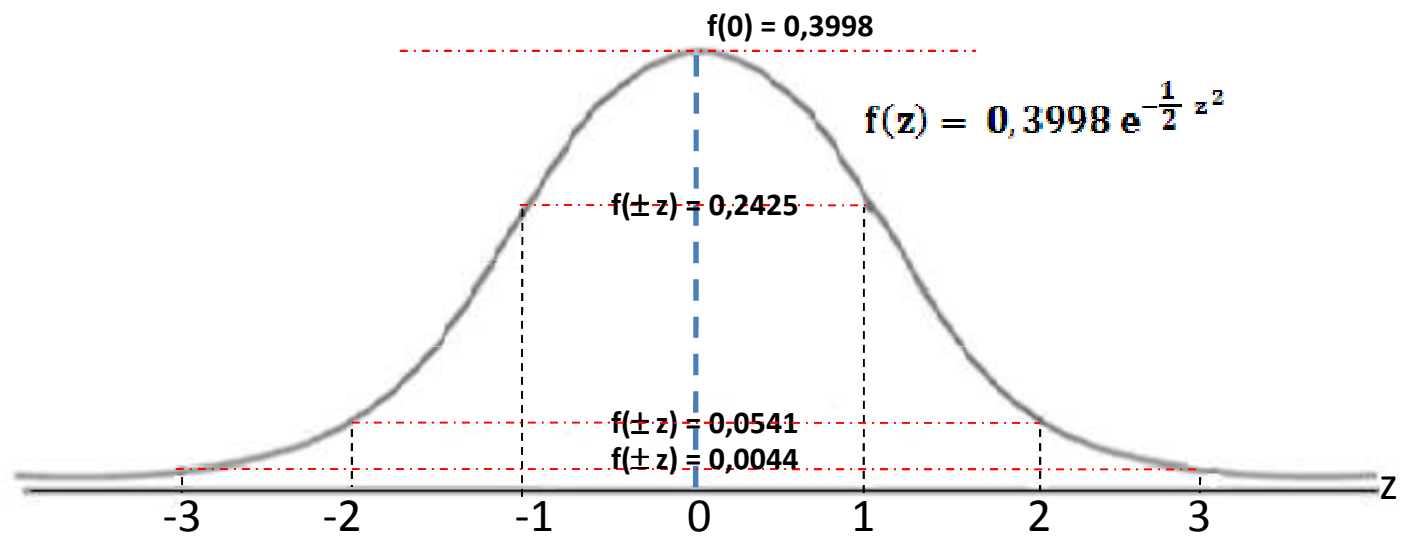
Untuk $z = -1$ $f(-1) = 0,2425$

Untuk $z = 2$ $f(z) = 0,0541$

Untuk $z = -2$ $f(-2) = 0,0541$

Untuk $z = 3$ $f(z) = 0,0044$

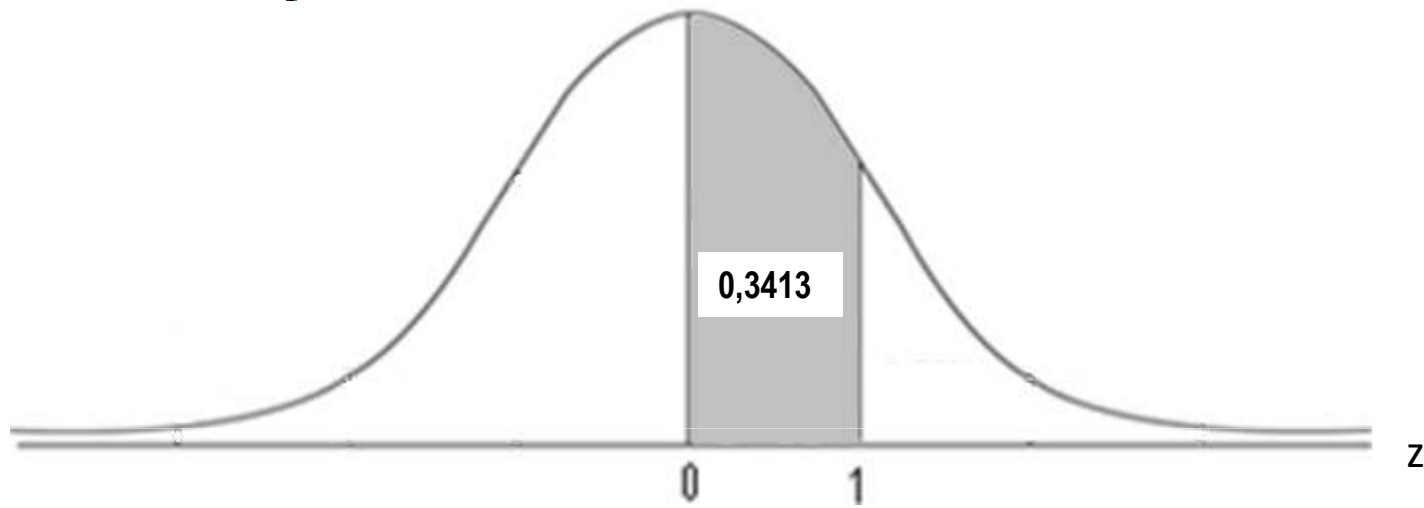
Untuk $z = -3$ $f(-3) = 0,0044$



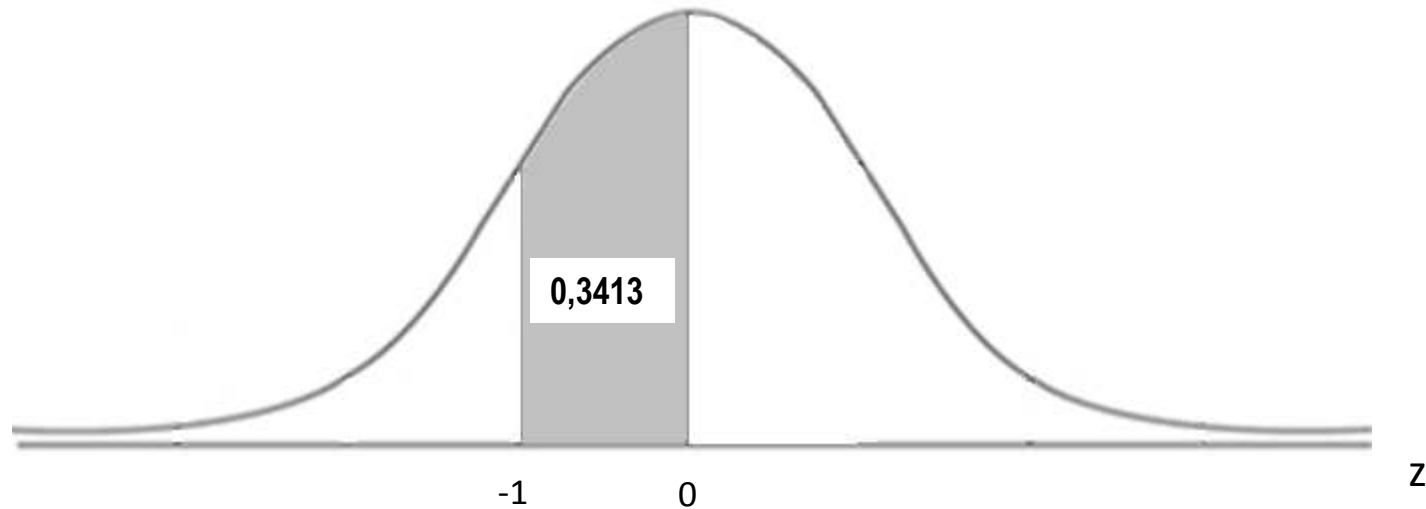
Berapa luas kurva yang dibatasi oleh $z=0$ hingga $z= 1$

$$\text{Luas kurva} = \int_{z_1}^{z_2} f(z) dz$$

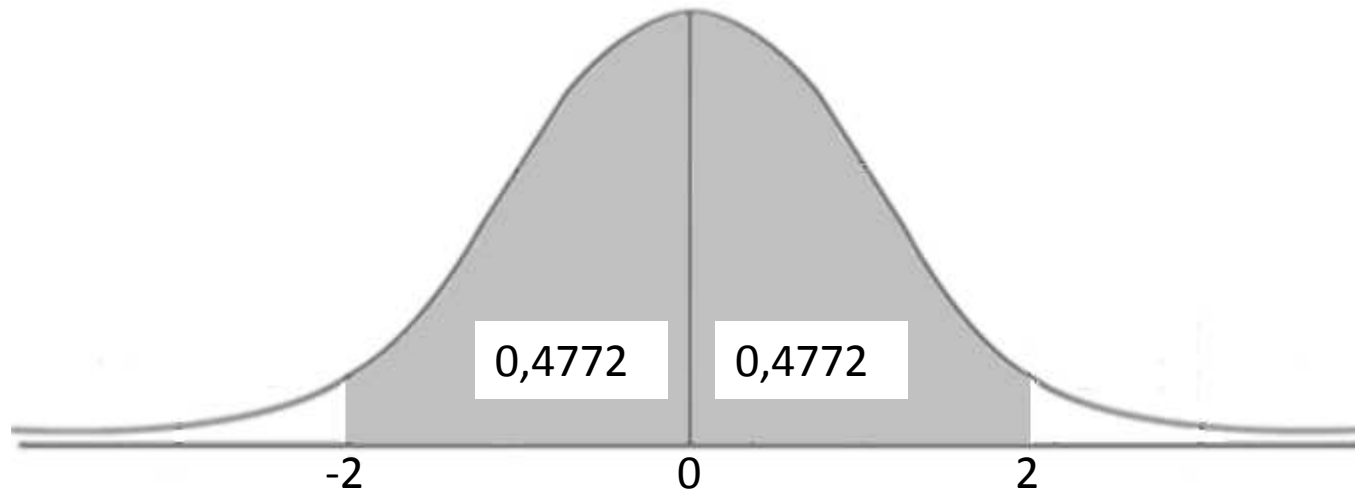
$$\text{Luas kurva} = \int_0^1 (0,3998) e^{-\frac{1}{2}z^2} dz$$



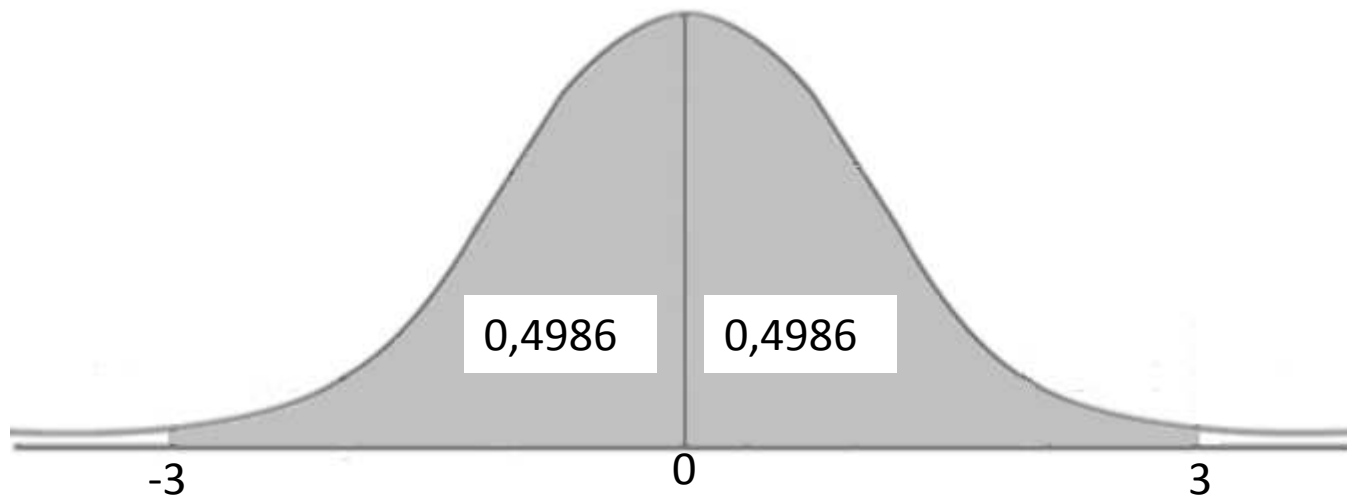
Berapa luas kurva yang dibatasi oleh $z=0$ hingga $z= -1$

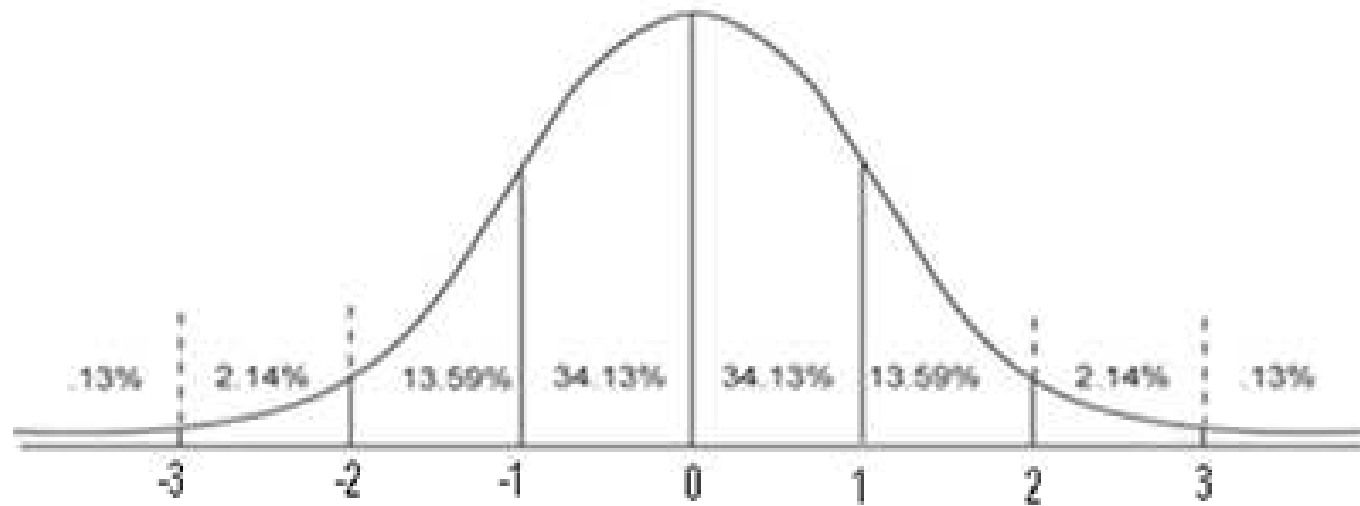


Berapa luas kurva yang dibatasi oleh $z=0$ hingga $z= 2$
Berapa luas kurva yang dibatasi oleh $z=0$ hingga $z= -2$



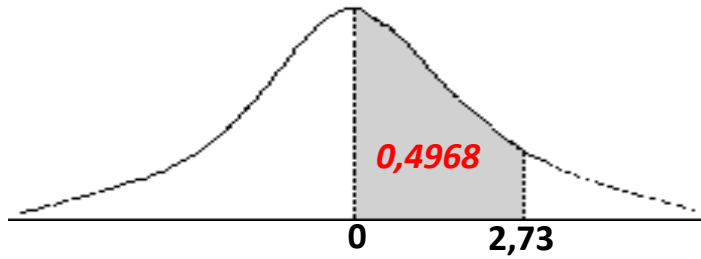
Berapa luas kurva yang dibatasi oleh $z=0$ hingga $z= 3$
Berapa luas kurva yang dibatasi oleh $z=0$ hingga $z= -3$



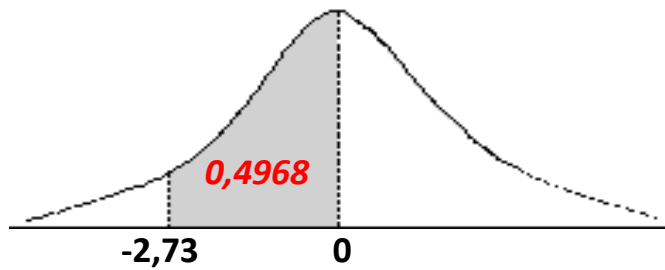


LATIHAN

Tentukan luas daerah antara $z = 0$ dan $z = 2,73$



Tentukan luas daerah antara $z = 0$ dan $z = -2,73$

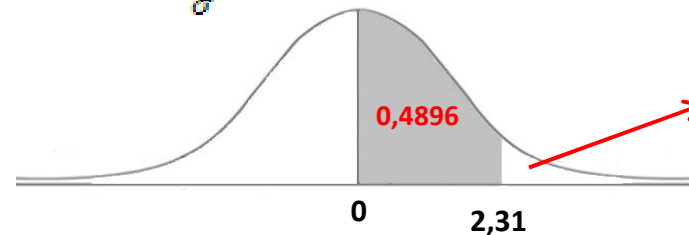


Rerata berat bayi yang baru lahir 3,750 gram gaya (gf) dengan simpangan baku 325 gf. Jika berat bayi berdistribusi normal, tentukan:

- Persentase berat bayi lebih dari 4500 gf
- Banyak bayi dari 10.000 bayi yang beratnya antara 3.500 gf dan 4.500 gf.
- Banyak bayi dari 10.000 bayi yang beratnya 4500 gf.

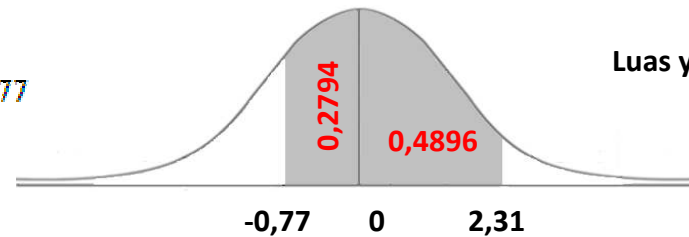
$$\mu = 3750 \text{ gf} \quad \sigma = 325 \text{ gf} \quad z = \frac{X_i - \mu}{\sigma}$$

a. $z = \frac{4500 - 3750}{325} = 2,31$



$$0,5 - 0,4896 = 0,0104 \quad \mathbf{1,04\%}$$

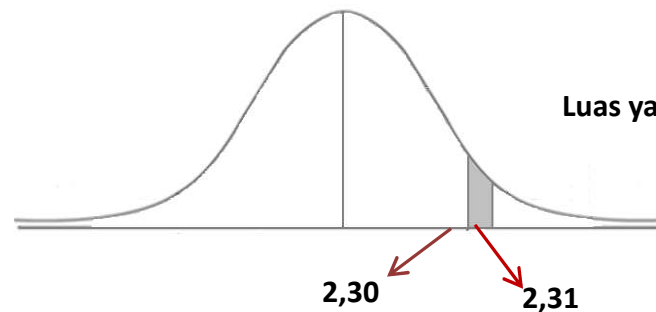
b. $z_1 = \frac{3500 - 3750}{325} = -0,77$
 $z = \frac{4500 - 3750}{325} = 2,31$



$$\text{Luas yang diarsir} = 0,2794 + 0,4896 = 0,769$$

$$N = 10.000 \times 0,769 = 7690 \text{ bayi}$$

c. $z_1 = \frac{4499,5 - 3750}{325} = 2,30$
 $z_2 = \frac{4500,5 - 3750}{325} = 2,31$



$$\text{Luas yang diarsir} = 0,4896 - 0,4893 = 0,0003$$

$$N = 10.000 \times 0,0003 = 3 \text{ bayi}$$

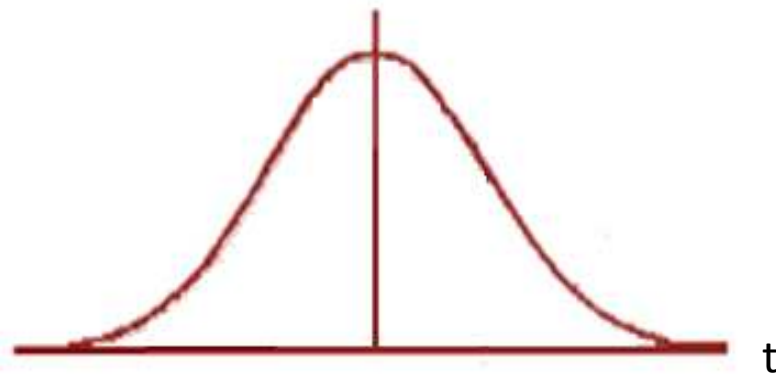
Distribusi Student (Distribusi t)

$$f(t) = \frac{\kappa}{1 + \left(\frac{t^2}{n-1}\right)^{\frac{1}{2}n}}$$

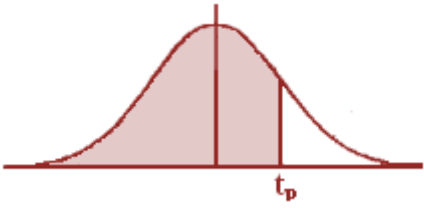
n : banyak anggota sampel

n - 1 : derajat kebebasan (u)

$$f(t) = \frac{\kappa}{1 + \left(\frac{t^2}{\nu}\right)^{\frac{1}{2}n}}$$



Tabel- t



v	$t_{0,995}$	$t_{0,99}$	$t_{0,975}$	$t_{0,95}$	$t_{0,90}$	$t_{0,80}$	$t_{0,75}$	$t_{0,70}$	$t_{0,60}$	$t_{0,55}$
1	63,66	31,82	12,71	6,31	3,08	1,376	1,000	0,727	0,325	0,158
2	9,92	6,96	4,30	2,92	1,89	1,061	0,816	0,617	0,289	0,142
3	5,84	4,54	3,18	2,35	1,64	0,978	0,765	0,584	0,277	0,137
4	4,60	3,75	2,78	2,13	1,53	0,941	0,741	0,569	0,271	0,134
5	4,03	3,36	2,57	2,02	1,48	0,920	0,727	0,559	0,267	0,132
6	3,71	3,14	2,45	1,94	1,44	0,906	0,718	0,553	0,265	0,131
7	3,50	3,00	2,36	1,90	1,42	0,896	0,711	0,519	0,263	0,130
8	3,36	2,90	2,31	1,86	1,40	0,889	0,706	0,546	0,262	0,130
9	3,25	2,82	2,26	1,83	1,38	0,883	0,703	0,543	0,261	0,129
10	3,17	2,76	2,23	1,81	1,37	0,879	0,700	0,542	0,260	0,129
11	3,11	2,72	2,20	1,80	1,36	0,876	0,697	0,540	0,260	0,129
12	3,06	2,68	2,18	1,78	1,36	0,873	0,695	0,539	0,259	0,128
13	3,01	2,66	2,16	1,77	1,35	0,870	0,694	0,538	0,259	0,128
14	2,98	2,62	2,14	1,76	1,34	0,868	0,692	0,537	0,258	0,128
15	2,95	2,60	2,13	1,75	1,34	0,866	0,691	0,536	0,258	0,128
16	2,92	2,58	2,12	1,75	1,34	0,865	0,690	0,535	0,258	0,128
17	2,90	2,57	2,11	1,74	1,33	0,863	0,689	0,534	0,257	0,128
18	2,88	2,55	2,10	1,73	1,33	0,862	0,688	0,534	0,257	0,127
19	2,86	2,54	2,09	1,73	1,33	0,861	0,688	0,533	0,257	0,127
20	2,84	2,53	2,09	1,72	1,32	0,860	0,687	0,533	0,257	0,127
21	2,83	2,52	2,08	1,72	1,32	0,859	0,686	0,532	0,257	0,127
22	2,82	2,51	2,07	1,72	1,32	0,858	0,686	0,532	0,256	0,127
23	2,81	2,50	2,07	1,71	1,32	0,858	0,685	0,532	0,256	0,127
24	2,80	2,49	2,06	1,71	1,32	0,857	0,685	0,531	0,256	0,127
25	2,79	2,48	2,06	1,71	1,32	0,856	0,684	0,531	0,256	0,127
26	2,78	2,48	2,06	1,71	1,32	0,856	0,684	0,531	0,256	0,127
27	2,77	2,47	2,05	1,70	1,31	0,855	0,684	0,531	0,256	0,127
28	2,76	2,47	2,05	1,70	1,31	0,855	0,683	0,530	0,256	0,127
29	2,76	2,46	2,04	1,70	1,31	0,854	0,683	0,530	0,256	0,127
30	2,75	2,46	2,04	1,70	1,31	0,854	0,683	0,530	0,256	0,127
40	2,70	2,42	2,02	1,68	1,30	0,851	0,681	0,529	0,255	0,126
60	2,66	2,39	2,00	1,67	1,30	0,848	0,679	0,527	0,254	0,126
120	2,62	2,36	1,98	1,66	1,29	0,845	0,677	0,526	0,254	0,126
∞	2,58	2,33	1,86	1,645	1,28	0,842	0,674	0,524	0,253	0,126

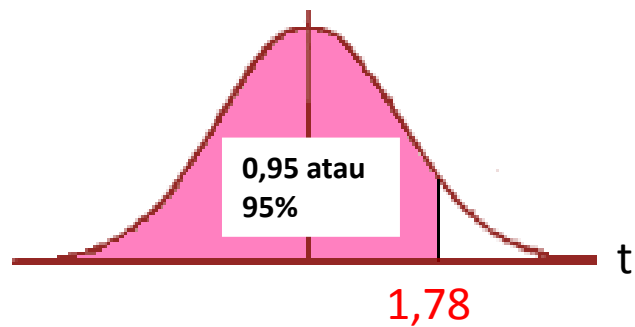
Contoh:

Tentukan nilai t jika $n=13$ dan $p=0,95$

$$N = 13 \quad v = 13 - 1 = 12$$

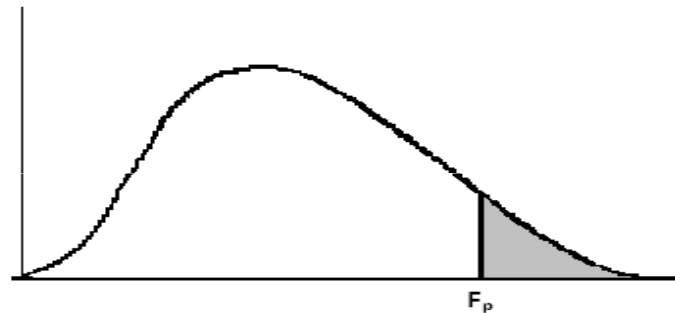
Lihat tabel-t

v	$t_{0,95}$	$t_{0,90}$	$t_{0,80}$	$t_{0,75}$	$t_{0,70}$	$t_{0,60}$	$t_{0,55}$
12	1,78						



DISTRIBUSI F

$$f(F) = \kappa \frac{F^{\frac{1}{2}(v_1 - 2)}}{\left(1 + \frac{v_1 F}{v_2}\right)^{\frac{1}{2}(v_1 + v_2)}}$$




Penulisan $F_{p(v_1, v_2)}$

misal $F_{0,05(24,8)}$

Nilai persentil untuk Distribusi F

F_p : baris atas untuk $p=0,05$

Baris bawah untuk $p= 0,01$




$V_2 = dk$ Penyebut	$V_1 = dk$ Pembilang																							
	1	2	3	4	5	6	7	8	9	10	11	12	14	16	20	24	30	40	50	75	100	200	500	∞
1	161	200	216	225	230	234	237	239	241	242	243	244	245	246	248	249	250	251	252	253	253	254	254	254
	4052	4999	5403	5625	5764	5859	5928	5981	6022	6056	6082	6106	6142	6169	6208	6234	6258	6286	6302	6323	6334	6352	6361	6366
2	18,51	19,00	19,16	19,25	19,30	19,33	19,36	19,37	19,38	19,39	19,40	19,41	19,42	19,43	19,44	19,45	19,46	19,47	19,47	19,48	19,49	19,49	19,50	19,50
	98,49	99,01	99,17	99,25	99,30	99,33	99,34	99,36	99,38	99,40	99,41	99,42	99,43	99,44	99,45	99,46	99,47	99,48	99,48	99,49	99,49	99,49	99,50	99,50
3	10,13	9,55	9,28	9,12	9,01	8,94	8,88	8,84	8,81	8,78	8,76	8,74	8,71	8,69	8,66	8,64	8,62	8,60	8,58	8,57	8,56	8,54	8,54	8,53
	34,12	30,81	29,46	28,71	28,24	27,91	27,67	27,49	27,34	27,23	27,13	27,05	26,92	26,83	26,69	26,60	26,50	26,41	26,30	26,27	26,23	26,18	26,14	26,12
4	7,71	6,94	6,59	6,39	6,26	6,16	6,09	6,04	6,00	5,96	5,93	5,91	5,87	5,84	5,80	5,77	5,74	5,71	5,70	5,68	5,66	5,65	5,64	5,63
	21,30	18,00	16,69	15,98	15,52	15,21	14,98	14,80	14,66	14,54	14,45	14,37	14,24	14,15	14,02	13,93	13,83	13,74	13,69	13,61	13,57	13,52	13,48	13,46
5	6,61	5,79	5,41	5,19	5,05	4,95	4,88	4,82	4,78	4,74	4,70	4,68	4,64	4,60	4,56	4,53	4,50	4,46	4,44	4,42	4,40	4,38	4,37	4,36
	16,26	13,27	12,06	11,39	10,97	10,67	10,45	10,27	10,15	10,05	9,96	9,89	9,77	9,68	9,55	9,47	9,38	9,29	9,24	9,17	9,13	9,07	9,04	9,02
6	5,99	5,14	4,76	4,53	4,39	4,28	4,21	4,15	4,10	4,06	4,03	4,00	3,96	3,92	3,87	3,84	3,81	3,77	3,75	3,72	3,71	3,69	3,68	3,67
	13,74	10,92	9,78	9,15	8,75	8,47	8,26	8,10	7,98	7,87	7,79	7,72	7,60	7,52	7,39	7,31	7,23	7,14	7,09	7,02	6,99	6,94	6,90	6,88
7	5,39	4,74	4,35	4,12	3,97	3,87	3,79	3,73	3,68	3,63	3,60	3,57	3,52	3,49	3,44	3,41	3,38	3,34	3,32	3,29	3,28	3,25	3,24	3,23
	12,25	9,55	8,45	7,85	7,46	7,19	7,00	6,84	6,71	6,62	6,54	6,47	6,35	6,27	6,15	6,07	5,98	5,90	5,85	5,78	5,75	5,70	5,67	5,65
8	5,32	4,46	4,07	3,84	3,69	3,58	3,50	3,44	3,39	3,34	3,31	3,28	3,23	3,20	3,15	3,12	3,08	3,05	3,03	3,00	2,98	2,96	2,94	2,93
	11,26	8,65	7,59	7,01	6,63	6,37	6,19	6,03	5,91	5,82	5,74	5,67	5,56	5,48	5,36	5,28	5,20	5,11	5,06	5,00	4,96	4,91	4,88	4,86
9	5,12	4,26	3,86	3,63	3,48	3,37	3,29	3,23	3,18	3,13	3,10	3,07	3,02	2,98	2,93	2,90	2,86	2,82	2,80	2,77	2,76	2,73	2,72	2,71
	10,56	8,02	6,99	6,42	6,06	5,80	5,62	5,47	5,35	5,26	5,18	5,11	5,00	4,92	4,80	4,73	4,64	4,56	4,51	4,45	4,41	4,36	4,33	4,31
10	4,96	4,10	3,71	3,48	3,33	3,22	3,14	3,07	3,02	2,97	2,94	2,91	2,86	2,82	2,77	2,74	2,70	2,67	2,64	2,61	2,59	2,56	2,55	2,54
	10,04	7,56	6,55	5,99	5,64	5,39	5,21	5,06	4,95	4,85	4,78	4,71	4,60	4,52	4,41	4,33	4,25	4,17	4,12	4,05	4,01	3,96	3,93	3,91
11	4,84	3,98	3,59	3,36	3,20	3,09	3,01	2,95	2,90	2,86	2,82	2,79	2,74	2,70	2,65	2,61	2,57	2,53	2,50	2,47	2,45	2,42	2,41	2,40
	9,65	7,30	6,22	5,67	5,32	5,07	4,88	4,74	4,63	4,54	4,46	4,40	4,29	4,21	4,10	4,02	3,94	3,86	3,80	3,74	3,70	3,66	3,62	3,60
12	4,75	3,88	3,49	3,26	3,11	3,00	2,92	2,85	2,80	2,76	2,72	2,69	2,64	2,60	2,54	2,50	2,46	2,42	2,40	2,36	2,35	2,32	2,31	2,30
	9,33	8,93	8,95	8,41	8,08	4,82	4,65	4,50	4,39	4,30	4,22	4,16	4,05	3,98	3,86	3,78	3,70	3,61	3,56	3,49	3,46	3,41	3,38	3,36
13	4,67	3,80	3,41	3,18	3,02	2,92	2,84	2,77	2,72	2,67	2,63	2,60	2,55	2,51	2,46	2,42	2,38	2,34	2,32	2,28	2,26	2,24	2,22	2,21
	9,07	6,70	5,74	5,20	4,86	4,62	4,44	4,30	4,19	4,10	4,02	3,96	3,85	3,78	3,67	3,59	3,51	3,42	3,37	3,30	3,27	3,21	3,18	3,16
14	4,60	3,74	3,34	3,11	2,96	2,85	2,71	2,70	2,65	2,60	2,56	2,53	2,48	2,44	2,39	2,35	2,31	2,27	2,24	2,21	2,19	2,16	2,14	2,13
	8,86	6,51	5,56	5,03	4,69	4,46	4,28	4,14	4,03	3,94	3,86	3,80	3,70	3,62	3,51	3,43	3,34	3,26	3,21	3,14	3,11	3,06	3,02	3,00
15	4,54	3,68	3,29	3,06	2,90	2,79	2,70	2,64	2,59	2,55	2,51	2,48	2,43	2,39	2,33	2,29	2,25	2,21	2,18	2,15	2,12	2,10	2,08	2,07
	8,68	6,36	5,42	4,89	4,56	4,32	4,14	4,00	3,89	3,80	3,73	3,67	3,56	3,48	3,36	3,29	3,20	3,12	3,07	3,00	2,97	2,92	2,89	2,87
16	4,49	3,63	3,24	3,01	2,85	2,74	2,66	2,59	2,54	2,49	2,45	2,42	2,37	2,33	2,28	2,24	2,20	2,16	2,13	2,09	2,07	2,04	2,02	2,01
	8,53	6,23	5,29	4,77	4,44	4,20	4,03	3,89	3,78	3,69	3,61	3,55	3,45	3,37	3,25	3,18	3,10	3,01	2,96	2,89	2,86	2,80	2,77	2,75
17	4,45	3,59	3,20	2,96	2,81	2,70	2,62	2,55	2,50	2,45	2,41	2,38	2,33	2,29	2,23	2,19	2,15	2,11	2,08	2,04	2,02	1,99	1,97	1,96
	8,40	6,11	5,18	4,67	4,34	4,10	3,93	3,79	3,68	3,59	3,52	3,45	3,35	3,27	3,16	3,08	3,00	2,92	2,86	2,79	2,76	2,70	2,67	2,65
18	4,41	3,55	3,16	2,93	2,77	2,66	2,58	2,51	2,46	2,41	2,37	2,34	2,29	2,25	2,19	2,15	2,11	2,07	2,04	2,00	1,98	1,95	1,93	1,92
	8,28	6,01	5,09	4,58	4,25	4,01	3,85	3,71	3,60	3,51	3,44	3,37	3,27	3,19	3,07	3,00	2,91	2,83	2,78	2,71	2,68	2,62	2,59	2,57
19	4,38	3,52	3,13	2,90	2,74	2,63	2,55	2,48	2,43	2,38	2,34	2,31	2,26	2,21	2,15	2,11	2,07	2,02	2,00	1,96	1,94	1,91	1,90	1,88
	8,18	5,93	5,01	4,50	4,17	3,94	3,77	3,63	3,52	3,43	3,36	3,30	3,19	3,12	3,00	2,92	2,84	2,76	2,70	2,63	2,60	2,54	2,51	2,49
20	4,35	3,49	3,10	2,87	2,71	2,60	2,52	2,45	2,40	2,35	2,31	2,28	2,23	2,18	2,12	2,08	2,04	1,99	1,96	1,92	1,90	1,87	1,85	1,84
	8,10	5,85	4,94	4,43	4,10	3,87	3,71	3,56	3,45	3,37	3,30	3,23	3,13	3,05	2,94	2,86	2,77	2,69	2,63	2,56	2,53	2,47	2,44	2,42
21	4,32	3,47	3,07	2,84	2,68	2,57	2,49	2,42	2,37	2,32	2,28	2,25	2,20	2,15	2,09	2,05	2,00	1,96	1,93	1,89	1,87	1,84	1,82	1,81
	8,02	5,78	4,87	4,37	4,04	3,81	3,65	3,51	3,40	3,31	3,24	3,17	3,07	2,99	2,88	2,80	2,72	2,63	2,58	2,51	2,47	2,42	2,38	2,36
22	4,30	3,44	3,05	2,82	2,66	2,55	2,47	2,40	2,35	2,30	2,26	2,23	2,18	2,13	2,07	2,03	1,98	1,93	1,91	1,87	1,84	1,81	1,80	1,78
	7,94	5,72	4,82	4,31	3,99	3,76	3,59	3,45	3,35	3,26	3,18	3,12	3,02	2,94	2,83	2,75	2,67	2,58	2,53	2,46	2,42	2,37	2,33	2,31
23	4,28	3,42	3,03	2,80	2,64	2,53	2,45	2,38	2,32	2,28	2,24	2,20	2,14	2,10	2,04	2,00	1,96	1,91	1,88	1,84	1,82	1,79	1,77	1,76
	7,88	5,66	4,76	4,26	3,94	3,71	3,54	3,41	3,30	3,21	3,14	3,07	2,97	2,89	2,78	2,70	2,62	2,53	2,48	2,41	2,37	2,32	2,28	2,26

$V_2 = dk$ Penyabit	$v_1: dk$ Pembilang																							
	1	2	3	4	5	6	7	8	9	10	11	12	14	16	20	24	30	40	50	75	100	200	500	∞
24	4,26	3,40	3,01	2,78	2,62	2,51	2,43	2,36	2,30	2,26	2,22	2,18	2,13	2,09	2,02	1,98	1,94	1,89	1,86	1,82	1,80	1,76	1,74	1,73
	7,82	5,61	4,72	4,22	3,90	3,67	3,50	3,36	3,25	3,17	3,09	3,03	2,93	2,85	2,74	2,66	2,58	2,49	2,44	2,36	2,33	2,27	2,23	2,21
25	4,24	3,38	2,99	2,76	2,60	2,49	2,41	2,34	2,28	2,24	2,20	2,16	2,11	2,06	2,00	1,96	1,92	1,87	1,84	1,80	1,77	1,74	1,72	1,71
	7,77	5,57	4,68	4,18	3,86	3,63	3,46	3,32	3,21	3,13	3,05	2,99	2,89	2,81	2,70	2,62	2,54	2,45	2,40	2,32	2,29	2,23	2,19	2,17
26	4,22	3,37	2,98	2,74	2,59	2,47	2,39	2,32	2,27	2,22	2,18	2,15	2,10	2,05	1,99	1,95	1,90	1,85	1,82	1,78	1,76	1,72	1,70	1,69
	7,72	5,53	4,64	4,14	3,82	3,59	3,42	3,29	3,17	3,09	3,02	2,96	2,86	2,77	2,66	2,58	2,50	2,41	2,36	2,28	2,25	2,19	2,15	2,13
27	4,21	3,35	2,96	2,73	2,57	2,46	2,37	2,30	2,25	2,20	2,16	2,13	2,08	2,03	1,97	1,93	1,88	1,84	1,80	1,76	1,74	1,71	1,68	1,67
	7,68	5,49	4,60	4,11	3,79	3,56	3,39	3,26	3,14	3,06	2,98	2,93	2,83	2,74	2,63	2,55	2,47	2,38	2,33	2,25	2,21	2,16	2,12	2,10
28	4,20	3,34	2,95	2,71	2,56	2,44	2,36	2,29	2,24	2,19	2,15	2,12	2,06	2,02	1,96	1,91	1,87	1,81	1,78	1,75	1,72	1,69	1,67	1,65
	7,64	5,45	4,57	4,07	3,76	3,53	3,36	3,23	3,11	3,03	2,95	2,90	2,80	2,71	2,60	2,52	2,44	2,35	2,30	2,22	2,18	2,13	2,09	2,06
29	4,18	3,33	2,93	2,70	2,54	2,43	2,35	2,28	2,22	2,18	2,14	2,10	2,05	2,00	1,94	1,90	1,85	1,80	1,77	1,73	1,71	1,68	1,65	1,64
	7,60	5,52	4,54	4,04	3,73	3,50	3,33	3,20	3,08	3,00	2,92	2,87	2,77	2,68	2,57	2,49	2,41	2,32	2,27	2,19	2,15	2,10	2,06	2,03
30	4,17	3,32	2,92	2,69	2,53	2,42	2,34	2,27	2,21	2,16	2,12	2,09	2,04	1,99	1,93	1,89	1,84	1,79	1,76	1,72	1,69	1,66	1,64	1,62
	7,56	5,39	4,51	4,02	3,70	3,47	3,30	3,17	3,06	2,98	2,90	2,84	2,74	2,66	2,55	2,47	2,38	2,29	2,24	2,16	2,13	2,07	2,03	2,01
32	4,15	3,30	2,90	2,67	2,51	2,40	2,32	2,25	2,19	2,14	2,10	2,07	2,02	1,97	1,91	1,86	1,82	1,76	1,74	1,69	1,67	1,64	1,61	1,59
	7,50	5,34	4,46	3,97	3,66	3,42	3,25	3,12	3,01	2,94	2,86	2,80	2,70	2,62	2,51	2,42	2,34	2,25	2,20	2,12	2,08	2,02	1,98	1,96
34	4,12	3,28	2,88	2,65	2,49	2,38	2,30	2,23	2,17	2,12	2,08	2,05	2,00	1,95	1,89	1,84	1,80	1,74	1,71	1,67	1,64	1,61	1,59	1,57
	7,44	5,29	4,42	3,93	3,61	3,38	3,21	3,08	2,97	2,89	2,82	2,76	2,66	2,58	2,47	2,38	2,30	2,21	2,15	2,08	2,04	1,98	1,94	1,91
36	4,11	3,26	2,80	2,63	2,48	2,36	2,28	2,21	2,15	2,10	2,06	2,03	1,99	1,93	1,87	1,82	1,78	1,72	1,69	1,65	1,62	1,59	1,56	1,55
	7,39	5,25	4,38	3,89	3,58	3,35	3,18	3,04	2,94	2,86	2,78	2,72	2,62	2,54	2,43	2,35	2,28	2,17	2,12	2,04	2,00	1,94	1,90	1,87
38	4,18	3,25	2,85	2,62	2,46	2,35	2,26	2,19	2,14	2,09	2,05	2,02	1,96	1,92	1,85	1,80	1,76	1,71	1,67	1,63	1,60	1,57	1,54	1,53
	7,35	5,21	4,34	3,86	3,54	3,32	3,15	3,02	2,91	2,82	2,75	2,69	2,59	2,51	2,40	2,32	2,22	2,14	2,08	2,00	1,97	1,90	1,86	1,84
40	4,08	3,23	2,84	2,61	2,45	2,34	2,25	2,18	2,12	2,07	2,04	2,00	1,95	1,90	1,84	1,79	1,74	1,69	1,66	1,61	1,59	1,55	1,53	1,51
	7,31	5,18	4,31	3,83	3,51	3,29	3,12	2,99	2,88	2,80	2,73	2,66	2,56	2,49	2,37	2,29	2,20	2,11	2,05	1,97	1,94	1,88	1,84	1,81
42	4,07	3,22	2,83	2,59	2,44	2,32	2,24	2,17	2,11	2,06	2,02	1,99	1,94	1,89	1,82	1,78	1,73	1,68	1,64	1,60	1,57	1,54	1,51	1,49
	7,27	5,15	4,29	3,80	3,49	3,26	3,10	2,96	2,86	2,77	2,70	2,64	2,54	2,46	2,35	2,26	2,17	2,08	2,02	1,94	1,91	1,85	1,80	1,78
44	4,06	3,21	2,82	2,58	2,43	2,31	2,23	2,16	2,10	2,05	2,01	1,98	1,92	1,88	1,81	1,76	1,72	1,66	1,63	1,58	1,56	1,52	1,50	1,48
	7,24	5,12	4,26	3,78	3,46	3,24	3,07	2,94	2,84	2,75	2,68	2,62	2,52	2,44	2,32	2,24	2,15	2,06	2,00	1,92	1,88	1,82	1,78	1,75
46	4,05	3,20	2,81	2,57	2,42	2,30	2,22	2,14	2,09	2,04	2,00	1,97	1,91	1,87	1,80	1,75	1,71	1,65	1,62	1,57	1,54	1,51	1,48	1,46
	7,21	5,10	4,24	3,76	3,44	3,22	3,05	2,92	2,82	2,73	2,66	2,60	2,50	2,42	2,30	2,22	2,13	2,04	1,98	1,90	1,86	1,80	1,76	1,72
48	4,04	3,19	2,80	2,56	2,41	2,30	2,21	2,14	2,08	2,03	1,99	1,96	1,90	1,86	1,79	1,74	1,70	1,64	1,61	1,56	1,53	1,50	1,47	1,45
	7,19	5,08	4,22	3,74	3,42	3,20	3,04	2,90	2,80	2,71	2,64	2,58	2,48	2,40	2,28	2,20	2,11	2,02	1,96	1,88	1,84	1,78	1,73	1,70
50	4,03	3,18	2,79	2,56	2,40	2,29	2,20	2,13	2,07	2,02	1,98	1,95	1,90	1,85	1,78	1,74	1,69	1,63	1,60	1,55	1,52	1,48	1,46	1,44
	7,17	5,06	4,20	3,72	3,41	3,18	3,02	2,88	2,78	2,70	2,62	2,56	2,46	2,39	2,26	2,18	2,10	2,00	1,94	1,86	1,82	1,76	1,71	1,68
55	4,02	3,17	2,78	2,54	2,38	2,27	2,18	2,11	2,05	2,00	1,97	1,93	1,88	1,83	1,76	1,72	1,67	1,61	1,58	1,52	1,50	1,46	1,43	1,41
	7,12	5,01	4,16	3,68	3,37	3,15	2,98	2,85	2,75	2,66	2,59	2,53	2,43	2,35	2,23	2,15	2,00	1,96	1,90	1,82	1,78	1,71	1,66	1,61
60	4,00	3,15	2,76	2,52	2,37	2,25	2,17	2,10	2,04	1,99	1,95	1,92	1,86	1,81	1,75	1,70	1,65	1,59	1,56	1,50	1,48	1,44	1,41	1,39
	7,08	4,98	4,13	3,65	3,31	3,12	2,95	2,82	2,72	2,63	2,56	2,50	2,40	2,32	2,20	2,12	2,03	1,93	1,87	1,79	1,71	1,68	1,63	1,60
65	3,99	3,14	2,75	2,51	2,36	2,24	2,15	2,08	2,02	1,98	1,94	1,90	1,85	1,80	1,73	1,68	1,63	1,57	1,54	1,49	1,46	1,42	1,39	1,37
	7,04	4,95	4,10	3,62	3,31	3,09	2,93	2,79	2,70	2,61	2,51	2,17	2,37	2,30	2,18	2,09	2,00	1,90	1,81	1,76	1,71	1,64	1,60	1,56
70	3,98	3,13	2,74	2,50	2,35	2,23	2,14	2,07	2,04	1,97	1,93	1,89	1,84	1,79	1,72	1,67	1,62	1,56	1,53	1,47	1,45	1,40	1,37	1,35
	7,01	4,92	4,08	3,60	3,29	3,07	2,91	2,77	2,67	2,59	2,51	2,45	2,35	2,28	2,15	2,07	1,98	1,88	1,82	1,74	1,69	1,63	1,56	1,53
80	3,96	3,11	2,72	2,48	2,33	2,21	2,12	2,05	1,99	1,95	1,91	1,88	1,82	1,77	1,70	1,65	1,60	1,54	1,51	1,45	1,42	1,38	1,35	1,32
	6,96	4,88	4,04	3,58	3,25	3,01	2,87	2,74	2,61	2,55	2,48	2,41	2,32	2,21	2,11	2,03	1,94	1,84	1,78	1,70	1,65	1,57	1,52	1,49
100	3,94	3,09	2,70	2,46	2,30	2,19	2,10	2,03	1,97	1,92	1,88	1,85	1,79	1,75	1,68	1,63	1,57	1,51	1,48	1,42	1,39	1,34	1,30	1,28
	6,90	4,82	3,98	3,51	3,20	2,99	2,82	2,69	2,59	2,51	2,43	2,36	2,26	2,19	2,06	1,98	1,89	1,79	1,73	1,64	1,59	1,51	1,46	1,43
125	3,92	3,07	2,68	2,44	2,29	2,17	2,08	2,01	1,95	1,90	1,86	1,83	1,77	1,72	1,65	1,60	1,55	1,49	1,45	1,39	1,36	1,31	1,27	1,25
	6,84	4,78	3,91	3,47	3,17	2,95	2,79	2,65	2,56	2,17	2,40	2,33	2,23	2,15	2,03	1,91	1,85	1,75	1,68	1,59	1,54	1,46	1,40	1,37
150	3,91	3,06	2,67	2,43	2,27	2,16	2,07	2,00	1,94	1,89	1,85	1,82	1,76	1,71	1,64	1,59	1,54	1,47	1,44	1,37	1,34	1,29	1,25	1,22
	6,81	4,75	3,91	3,44	3,13	2,92	2,76	2,62	2,53	2,44	2,37	2,30	2,20	2,12	2,00	1,91	1,83	1,72	1,66	1,56	1,51	1,43	1,37	1,33
200	3,89	3,04	2,65	2,41	2,26	2,14	2,05	1,98	1,92	1,87	1,83	1,80	1,74	1,69	1,62	1,57	1,52	1,45	1,42	1,35	1,32	1,26	1,22	1,19
	6,76	4,71	3,88	3,41	3,11	2,90	2,73	2,60	2,50	2,41	2,31	2,28	2,17	2,09	1,97	1,88	1,79	1,69	1,62	1,53	1,48	1,39	1,33	1,28
400	3,86	3,02	2,62	2,39	2,23	2,12	2,03	1,96	1,90	1,85	1,81	1,78	1,72	1,67	1,60	1,54	1,49	1,42	1,38	1,32	1,28	1,22	1,16	1,13
	6,70	4,66	3,83	3,36	3,06	2,85	2,69	2,55	2,46	2,37	2,29	2,23	2,12	2,0										

Contoh

Tentukan nilai $F_{0,05}(24,8)$ dan $F_{0,01}(24,8)$

Baris atas untuk $p = 0,05$
 Baris bawah untuk $p = 0,01$



$v_2 = dk$ Penyebut	$v_1: dk$ Pembilang																							
	1	2	3	4	5	6	7	8	9	10	11	12	14	16	20	24	30	40	50	75	100	200	500	∞
1	161	200	216	225	230	234	237	239	241	242	243	244	245	246	248	249	250	251	252	253	253	254	254	254
2	4052	4999	5403	5625	5764	5859	5928	5981	6022	6056	6082	6106	6142	6169	6208	6234	6258	6286	6302	6323	6334	6352	6361	6366
3	18,51	19,00	19,16	19,25	19,30	19,33	19,36	19,37	19,38	19,39	19,40	19,41	19,42	19,43	19,44	19,45	19,46	19,47	19,47	19,48	19,49	19,49	19,50	19,50
4	98,49	99,01	99,17	99,25	99,30	99,33	99,34	99,36	99,38	99,40	99,41	99,42	99,43	99,44	99,45	99,46	99,47	99,48	99,48	99,49	99,49	99,49	99,50	99,50
5																								
6																								
7																								
8	5,32	4,46	4,07	3,84	3,69	3,58	3,50	3,44	3,39	3,34	3,31	3,28	3,23	3,20	3,15	3,12	3,08	3,05	3,03	3,00	2,98	2,96	2,94	2,93
	11,26	8,65	7,59	7,01	6,63	6,37	6,19	6,03	5,91	5,82	5,74	5,67	5,56	5,48	5,36	5,28	5,20	5,11	5,06	5,00	4,96	4,91	4,88	4,86

Tentukan nilai $F_{0,95}(8,24)$ dan $F_{0,99}(8,24)$

$$F_{0,95}(8,24) = \frac{1}{F_{0,05}(24,8)} = \frac{1}{3,12} = 0,321$$

$$F_{0,99}(8,24) = \frac{1}{F_{0,01}(24,8)} = \frac{1}{5,28} = 0,189$$

$$F_{(1-p)(v_2,v_1)} = \frac{1}{F_{p(v_1,v_2)}}$$

PENDEKATAN DISTRIBUSI BINOM TERHADAP DISTRIBUSI NORMAL

- Syarat:
- N cukup besar
 - Peluang terjadinya peristiwa tidak mendekati nol

Sehingga: Rerata : $\mu = N p$

Standar Deviasi : $\sigma = \sqrt{Npq}$

Angka baku : $z = \frac{X - Np}{\sqrt{Npq}}$

Contoh :

15 % penduduk terserang penyakit busung lapar. Diambil sampel acak 200 penduduk. Tentukan peluang terdapat

- a. Lebih dari 15 orang terkena busung lapar
- b. 15 orang atau lebih terkena busung lapar
- c. paling banyak 25 orang terkena busung lapar

$$p = 0,15 \quad q = 0,85 \quad \mu = Np = 0,15 \times 200 = 30$$

$$\sigma = \sqrt{Npq} = \sqrt{200 (0,15)(0,85)} = 5,05$$

a. Lebih dari 15 orang terkena busung lapar

$$z = \frac{15 - 30}{5,05} = -2,97 \quad \text{Dari tabel z diperoleh : 0,4985}$$

$$\text{Peluang lebih dari 15 orang} = 0,4985 + 0,5 = 0,9985$$

b. 15 orang atau lebih terkena busung lapar

$$z = \frac{14,5 - 30}{5,05} = -3,07 \quad \text{Dari tabel z diperoleh : 0,4989}$$

$$\text{Peluang lebih dari 15 orang} = 0,4989 + 0,5 = 0,9989$$

c. Paling banyak 25 orang terkena busung lapar

$$z_1 = \frac{-0,5 - 30}{5,05} = -6,04$$

$$z_2 = \frac{25,5 - 30}{5,05} = 0,89 \quad \text{Dari tabel z diperoleh : 0,3133}$$

Peluang paling banyak 25 orang terkena busung lapar = 0,5 + 0,3133 = 0,8133

PENDEKATAN DISTRIBUSI BINOM TERHADAP DISTRIBUSI NORMAL

Syarat:

- N cukup besar
- Peluang terjadinya peristiwa tidak mendekati nol

Sehingga Rerata : $\mu = N p$

Standar Deviasi : $\sigma = \sqrt{Npq}$

Angka baku $z = \frac{X - Np}{\sqrt{Npq}}$

Contoh

15 % penduduk terserang penyakit busung lapar. Diambil sampel acak 200 penduduk. Tentukan peluang terdapat


- a. Lebih dari 10 orang terkena busung lapar
- b. paling banyak 25 orang terkena busung lapar

$$p = 0,15 \quad q = 0,85$$

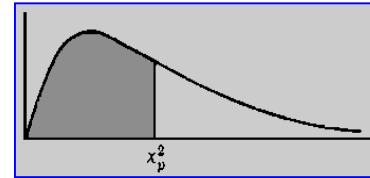
$$\mu = 0,15 \times 200 = 30$$

Distribusi CHI KUADRAT (χ^2)

$$f(\chi^2) = \kappa (\chi^2)^{\frac{1}{2}v-1} e^{-\frac{1}{2}(\chi^2)}$$



Tabel χ^2




v	$\chi^2_{0,995}$	$\chi^2_{0,99}$	$\chi^2_{0,975}$	$\chi^2_{0,95}$	$\chi^2_{0,90}$	$\chi^2_{0,75}$	$\chi^2_{0,50}$	$\chi^2_{0,25}$	$\chi^2_{0,10}$	$\chi^2_{0,05}$	$\chi^2_{0,025}$	$\chi^2_{0,01}$	$\chi^2_{0,005}$
1	7,88	6,63	5,02	3,84	2,71	1,32	0,445	0,102	0,016	0,004	0,001	0,0002	0,000
2	10,6	9,21	7,38	5,99	4,61	2,77	1,39	0,575	0,211	0,103	0,051	0,0201	0,010
3	12,8	11,3	9,35	7,81	6,25	4,11	2,37	1,21	0,584	0,352	0,216	0,115	0,072
4	14,9	13,3	11,1	9,49	7,78	5,39	3,36	1,92	1,06	0,711	0,484	0,297	0,207
5	16,7	15,1	12,8	11,1	9,24	6,63	4,35	2,67	1,61	1,15	0,831	0,554	0,412
6	18,5	16,8	14,4	12,6	10,6	7,84	5,35	3,45	2,20	1,64	1,24	0,872	0,676
7	20,3	18,5	16,0	14,1	12,0	9,04	6,35	4,25	2,83	2,17	1,69	1,24	0,989
8	22,0	20,1	17,5	15,5	13,4	10,2	7,34	5,07	3,49	2,73	2,18	1,65	1,34
9	23,6	21,7	19,0	16,9	14,7	11,4	8,31	5,90	4,17	3,33	2,70	2,09	1,73
10	25,2	23,2	20,5	18,3	16,0	12,5	9,34	6,74	4,87	3,9	3,25	2,56	2,16
11	26,8	24,7	21,9	19,7	17,3	13,7	10,3	7,58	5,58	4,57	3,82	3,05	2,60
12	28,3	26,2	23,3	21,0	18,5	14,8	11,3	8,44	6,30	5,23	4,40	3,57	3,07
13	29,8	27,7	24,7	22,4	19,8	16,0	12,3	9,30	7,04	5,89	5,01	4,11	3,57
14	31,3	29,1	26,1	23,7	21,1	17,1	13,3	10,2	7,79	6,57	5,63	5,66	4,07
15	32,8	30,6	27,5	25,0	22,3	18,2	14,3	11,0	8,55	7,26	6,26	6,26	4,60
16	34,3	32,0	28,8	26,3	23,5	19,4	15,3	11,9	9,31	7,96	6,91	6,91	5,14
17	35,7	33,4	30,2	27,6	24,8	20,5	16,3	12,8	10,1	8,67	7,56	7,56	5,70
18	37,2	34,8	31,5	28,9	26,0	21,6	17,3	13,7	10,9	9,39	8,23	8,23	6,26
19	38,6	36,2	32,9	30,1	27,2	22,7	18,3	14,6	11,7	10,1	8,91	8,91	6,84
20	40,0	37,6	34,2	31,1	28,4	23,8	19,3	15,5	12,4	10,9	9,59	9,59	7,43
21	41,4	38,9	35,5	32,7	29,6	24,9	20,3	16,3	13,2	11,6	10,3	10,3	8,03
22	42,8	40,3	36,8	33,9	30,8	26,0	21,3	17,2	14,0	12,3	11,0	11,0	8,64
23	44,2	41,6	38,1	35,2	32,0	27,1	22,3	18,1	14,8	13,1	11,7	11,7	9,26
24	45,6	43,0	39,4	36,4	33,2	28,2	23,3	19,0	15,7	13,8	12,4	12,4	9,89
25	46,9	44,3	40,6	37,7	34,4	29,3	24,3	19,9	16,5	14,6	13,1	13,1	10,5
26	48,3	45,6	41,9	38,9	35,6	30,4	25,3	20,8	17,3	15,4	13,8	13,8	11,2
27	49,6	47,0	43,2	40,1	36,7	31,5	26,3	21,7	18,1	16,2	14,6	14,6	11,8
28	51,0	48,3	44,5	41,3	37,9	32,6	27,3	22,7	18,9	16,9	15,3	15,3	12,5
29	52,3	49,6	45,7	42,6	39,1	33,7	28,3	23,6	19,8	17,7	16,0	16,0	13,1
30	53,7	50,9	47,0	43,8	40,3	34,8	29,3	24,5	20,6	18,5	16,8	16,8	13,8
40	66,8	63,7	59,3	55,8	51,8	45,6	39,3	33,7	29,1	26,5	24,4	22,2	20,7
50	79,5	76,2	71,4	67,5	63,2	56,3	49,3	42,9	37,7	34,8	32,4	29,7	28,0
60	92,0	88,4	83,3	79,1	74,4	67,0	59,3	52,3	46,5	43,2	40,5	37,5	35,5
70	104,2	100,4	95,0	90,5	85,5	77,6	69,3	61,7	55,3	51,7	48,8	45,4	43,3
80	116,3	112,3	106,6	101,9	96,6	88,1	79,3	71,1	64,3	60,4	57,2	53,5	51,2
90	128,3	124,1	118,1	113,1	107,6	98,6	89,3	80,6	73,3	69,1	65,6	61,8	59,2
100	140,2	135,8	129,6	124,3	118,5	109,1	99,3	90,1	82,4	77,9	74,2	70,1	67,3

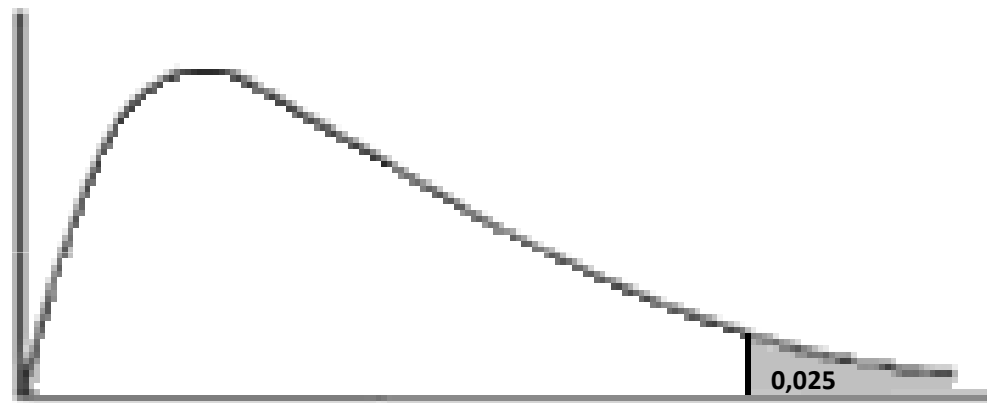
CONTOH

Tentukan nilai $\chi^2_{0,975}$ Untuk derajat kebebasan 20

v	$\chi^2_{0,995}$	$\chi^2_{0,99}$	$\chi^2_{0,975}$	$\chi^2_{0,95}$	$\chi^2_{0,90}$	$\chi^2_{0,75}$	$\chi^2_{0,50}$	$\chi^2_{0,25}$	$\chi^2_{0,10}$	$\chi^2_{0,05}$	$\chi^2_{0,025}$	$\chi^2_{0,01}$	$\chi^2_{0,005}$
1	7,88	6,63	5,02	3,84	2,71	1,32	0,445	0,102	0,016	0,004	0,001	0,0002	0,000
2	10,6	9,21	7,38	5,99	4,61	2,77	1,39	0,575	0,211	0,103	0,051	0,0201	0,010
3	12,8	11,3	9,35	7,81	6,25	4,11	2,37	1,21	0,584	0,352	0,216	0,115	0,072
4	14,9	13,3	11,1	9,49	7,78	5,39	3,36	1,92	1,06	0,711	0,484	0,297	0,207
5	16,7	15,1	12,8	11,1	9,24	6,63	4,35	2,67	1,61	1,15	0,831	0,554	0,412
20	40,0	37,6	34,2	31,1	28,4	23,8	19,3	15,5	12,4	10,9	9,59	8,26	7,43



Tentukan nilai χ_p^2 Jika luas dari χ_p^2 Kekananan 0,025 dan derajat kebebasan 20



34.2